

Ensino de Educação Infantil, Fundamental, Médio e Profissional de
Nível Técnico

ATIVIDADES PEDAGÓGICAS COMPLEMENTARES

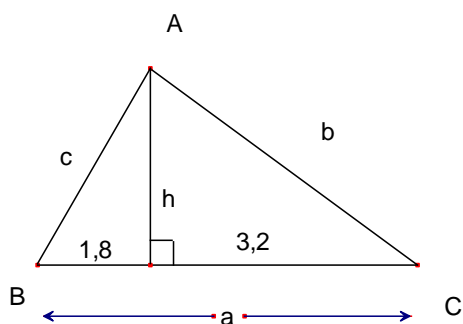
Prof. **NILSON MOZAS OLIVARES** Disciplina: **MATEMÁTICA** Data: ____/____/2020.

Nome do aluno: _____

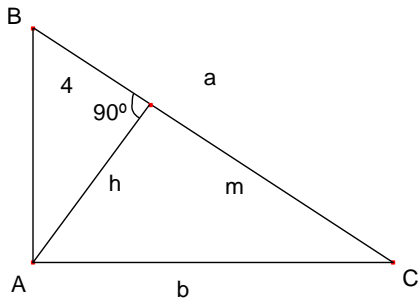
Série/ano: 2 ANO

UNIDADE 4 – RELAÇÕES MÉTRICAS EM TRIÂNGULOS RETÂNGULOS – REVISÃO

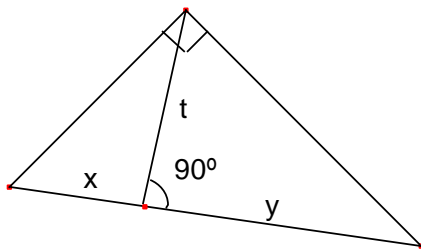
1. No triângulo retângulo da figura seguinte, determine as medidas a , b , c e h indicadas, considerando-se que as medidas da figura são dadas em centímetros.



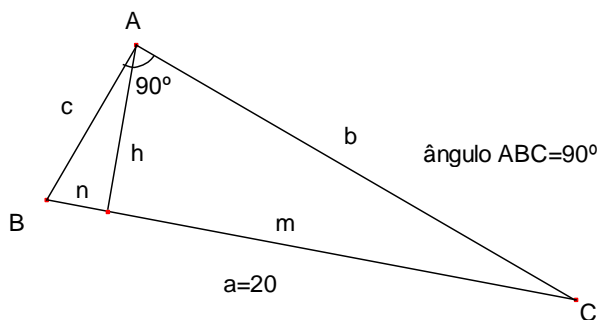
2. Considerando o triângulo retângulo da figura seguinte, determine as medidas a , b , h e m indicadas.



3. No triângulo retângulo da figura abaixo, qual é relação métrica envolvendo as medidas t , x e y , indicadas que você pode formar?



4. No triângulo retângulo da figura abaixo temos que $n = x$ e $m = (x+5,6)$. Sabendo que as medidas são dadas em centímetros, determine as medidas b , c e h indicadas.



5. No triângulo retângulo da figura abaixo determine as medidas m e n indicadas.

